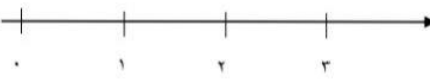
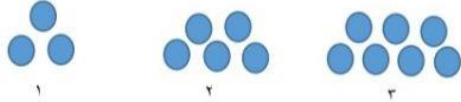
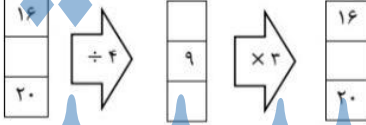





نام و نام خانوادگی: کلاس چهارم الف	به نام خالق زیبایی ها دبستان دخترانه شهید پورجندقی دی ماه ۱۴۰۱	آزمون ریاضی نوبت اول طراح: ندا فارسی
۱	<p>به سوالات مطرح شده در مورد عدد ۲۶۸ و ۴۷۹ و ۵۱۳ پاسخ دهید.</p> <ul style="list-style-type: none"> * چند رقمی است؟ * رقم ۷ در عدد فوق چه مرتبه ای دارد؟ * ارزش بزرگترین رقم این عدد چند است؟ * عدد بالا را به صورت گستره بنویسید؟ 	
۲	<p>به عدد بنویسید. شش میلیون و هفتاد و نه هزار و هشتصد</p>	
۳	<p>کامل کنید . بزرگترین عدد فرد ۶ رقمی با رقم های غیر تکراری: $\frac{1}{4}$ واحد مانده به عدد ۲ را روی محور نشان دهید.</p> 	
۴	<p>با کشف الگو و نوشتن رابطه بدون رسم شکل تعداد دایره های شکل ۶ را به دست آورید.</p>  <p style="text-align: center;">شکل ۶</p>	
۵	<p>ماشین مقابل را کامل کنید .</p> 	
۶	<p>جا های خالی را کامل کنید. نصف ۲۰۰۰ تا می شود؟ ثلث ۹۰۰ تا می شود؟..... یک میلیون یعنیدسته ی ۱۰۰۰۰۰ تا می</p> $\frac{2}{3} = \frac{4}{6} = \frac{\quad}{27}$	
۷	<p>مقایسه کنید. (<=>)</p> $\frac{2}{3} \square \frac{30}{12}$ $\frac{25}{25} \square \frac{0}{25}$ $300000 \square \text{سی میلیون}$ $\frac{4}{18} \square \frac{10}{18}$ $\frac{3}{20} \square \frac{3}{14}$ $\frac{5}{5} \square 1$	

	$\left(2 \times \frac{2}{10} \right) - \frac{2}{10} =$ $\frac{24}{26} = \text{ساده کنید}$	<p>فرایندی</p> $\begin{array}{r} 657 \quad 4 \\ \hline \end{array}$ <p>تکنیکی</p> $\begin{array}{r} 9725 \quad 32 \\ \hline \end{array}$	<p>۸ حاصل عبارت های زیر را به دست آورید.</p> $\begin{array}{r} \times 328 \\ 903 \\ \hline \end{array}$
	$345 - 126 = \dots - \dots =$ $222 \div 54 = \dots - \dots =$	$197 + 437 = \dots - \dots =$ $58 \times 460 = \dots - \dots =$	<p>۹ حاصل تقریبی عبارت های زیر را به دست آورید .</p>
	<p>۱۰ مینا $\frac{3}{8}$ گل های یک مزرعه را فروخت و $\frac{2}{16}$ گل های مزرعه را به جشن نیکوکاری هدیه کرد. چه کسری از گل های مزرعه تمام شده است؟ چه مقدار از گل ها هنوز برداشت نشده است؟</p>		
	<p>تقریب هزارگان</p> $27340 \rightarrow$	<p>تقریب تن</p> $4985 \rightarrow$	<p>۱۱ تقریب بزنید.</p>
	<p>۱۲ شکل مربوط به عبارت ها را کامل کرده و رنگ آمیزی کنید.</p> <div style="display: flex; justify-content: space-around; align-items: center;"> <div style="text-align: center;">  $2 \times \frac{3}{8} =$ </div> <div style="text-align: center;">  $\frac{4}{5} = \frac{8}{10}$ </div> <div style="text-align: center;">  <p>واحد</p> </div> <div style="text-align: center;"> $1 \frac{2}{4}$ </div> </div>		
	<p>۱۳ در یک جعبه کلوچه ۲۰ ردیف ۱۵ تایی کلوچه چیده شده است می خواهیم کلوچه ها را بین ۶ مدرسه تقسیم کنیم به هر مدرسه چند کلوچه می رسد؟</p>		